

Quer durch die 1. Klasse

Mathe und Deutsch



*gemeinsam
wachsen lernen*

hauschkaverlag

Dieser Block gehört:

(Dein Name)

Mathe

| | |
|--|--------|
| Muster | 1 |
| Zahlen und rechnen bis 10 | 2-12 |
| Mengen vergleichen | 7 |
| Kombinatorik | 8 |
| Zahlen und rechnen bis 20 | 13-38 |
| Farb-Sudoku | 14 |
| Geometrische Formen | 19, 33 |
| Rechnen mit Geld | 20, 27 |
| Lagebegriffe | 21 |
| Sachrechnen | 22, 32 |
| Uhrzeit | 34 |
| Logikrätsel | 37 |

Deutsch

Grammatik

| | |
|----------------------------|-------|
| Buchstaben und Laute | 39-43 |
| Wortarten | 44-49 |
| Sätze | 50 |
| Silben und Vokale | 51-53 |
| Lesen | 54-63 |

Rechtschreibung

| | |
|------------------------------|-------|
| Endungen -el, -en, -er | 64 |
| St, Sp, Qu, x, V | 65-67 |
| Harte und weiche Laute | 68 |
| ä und äu | 69 |
| Buchstabenrätsel | 70 |

Schreiben

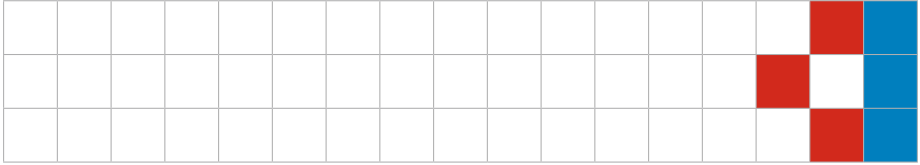
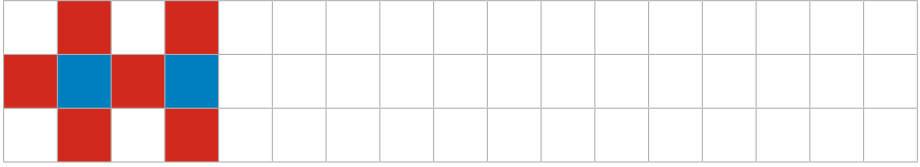
| | |
|---------------------------|----|
| Nachricht schreiben | 71 |
| Bildergeschichte | 72 |

| | |
|-----------------------|-------|
| Lösungen | 73-80 |
|-----------------------|-------|

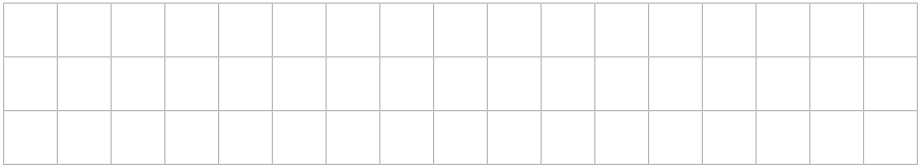


Ich heiße Anton.
Ich begleite dich in
diesem Block und
gebe dir Tipps.

► Setze die Muster fort!

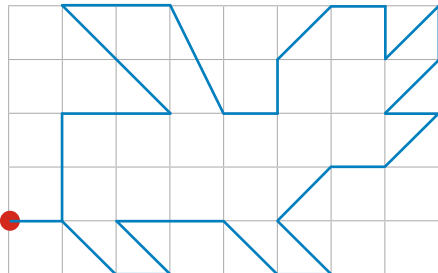


► Erfinde ein eigenes Muster!

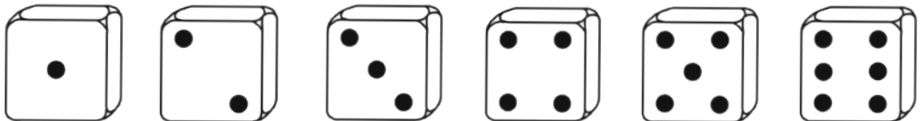




► Zeichne das Muster nach!

Mit dem Lineal geht es besser.
Zähle die Kästchen beim Malen!



► Zähle die Zootiere und verbinde mit den Würfeln!
Schreibe die Zahlen unter die Würfel!



□ □ □ □ □ □

► Male die Würfel so fertig, dass **vier verschiedene** Seiten entstehen!



► Ergänze die Zahlen der Reihe nach!

1

► Schreibe die fehlenden Zahlen in die Burg!



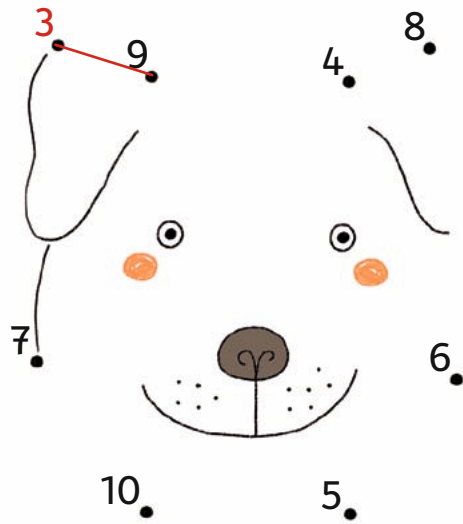


► Welche Würfelseite ist jeweils hinten? Male den richtigen Würfel an!

| | | | |
|--|--|--|--|
| | | | |
| | | | |
| | | | |
| | | | |

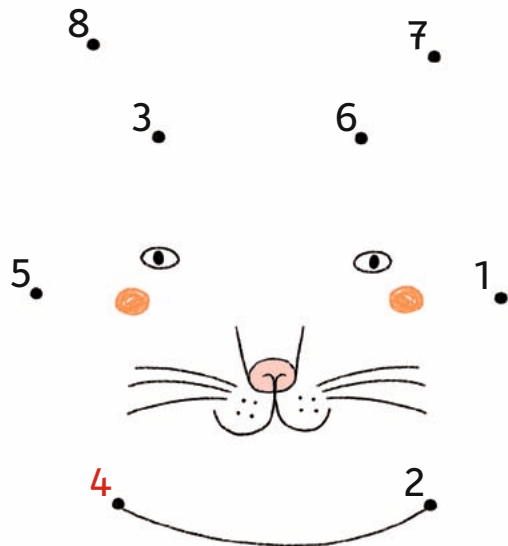
► Löse die Rechnungen und verbinde im Bild die Ergebnisse der Reihe nach!

| | | | | |
|---|---|---|---|--|
| 1 | + | 2 | = | |
| 3 | + | 6 | = | |
| 1 | + | 3 | = | |
| 6 | + | 2 | = | |
| 4 | + | 2 | = | |
| 2 | + | 3 | = | |
| 7 | + | 3 | = | |
| 2 | + | 5 | = | |



► Jetzt rechne minus!

| | | | | |
|---|---|---|---|--|
| 7 | - | 3 | = | |
| 9 | - | 4 | = | |
| 8 | - | 0 | = | |
| 6 | - | 3 | = | |
| 8 | - | 2 | = | |
| 9 | - | 2 | = | |
| 6 | - | 5 | = | |
| 9 | - | 7 | = | |



- Jede Form steht für eine Zahl. Aber für welche? Rechne und schreibe die richtigen Zahlen in die jeweiligen Formen!

$$\triangle_1 + \triangle = \bigcirc$$

$$\triangle + \bigcirc = \square$$

$$\star - \triangle = \square$$

$$\star + \bigcirc = \nabla$$

$$\square - \bigcirc = \square$$

Lösung:



► Vergleiche die Eistüten und kreuze die **richtigen** Sätze an! Streiche falsche Sätze durch!

- Ida hat 3 Eiskugeln.
- Nina hat mehr Eiskugeln als Ida.
- Leo hat 2 Eiskugeln weniger als Paul.
- Paul hat eine Eiskugel mehr als Leo.
- Die meisten Eiskugeln hat ein Mädchen.



► Lies und male die Eiskugeln in die Waffeln!



Tim hat vier Eiskugeln.
Zara und Ali haben zusammen
so viele Eiskugeln wie Tim.
Ali hat mehr Kugeln als Zara.



Ali



Tim



Zara